











# 2年生【算数】長さ(1)

名前( )

学しゅう活どう (🕒1こ=だいたい10分)	場所	ミッション ~かならずとりくむ学しゅう~ クリアしたら☑チェックを入れよう	ヒント	先生のはんこ
先生の話を聞いて、学しゅうの見とおしをもとう	しちょう かく室	オリエンテーション		
① 「長さのゆう者でんせつ」をクリアして、長さマスターになろう! 🕒🕒🕒🕒 	しちょう かく室 2-1	☐クエスト1「きみのぶきでしらべよ」(けしゴムのいくつ分) ☐クエスト2「つたわらないメッセージ」(けしゴム5つ分・・・) ☐クエスト3「1cmの赤いブロックをならべろ」(1cmのいくつ分) ☐クエスト4「紙のものさしのさずけ」(べんりな1cmめもり紙のものさし) → どう画① ☐クエスト5「さいごのてき おばけハガキ」(1mmまではかれる木のものさし) → どう画②	教科書 (P64~71)	にんていしょうのがめんをひらいたまま 先生に見せてね
② (木)のものさしをつかって、長さをはかろう 🕒🕒🕒🕒	しちょう かく室 2-1	☐プリント 4まい ☐教科書 P71   ☐みのまわりのものの長さ調べ(長さしらべカード2まい)	どう画② AI「ものさし長老」	自分で丸つけ
③ たんいのあらわし方をマスターしよう 🕒🕒🕒	しちょう かく室 2-1	☐教科書 P72     ☐プリント 2まい	教科書 P72 AI「ものさし長老」	自分で丸つけ
④ (木)のものさしをつかって、直線をひこう 🕒🕒🕒	しちょう かく室 2-1	☐どうが③をみる ☐プリント 2まい	教科書 P72・73 教科書 P72の QRコード AI「ものさし長老」	プリントは先生が丸つけします
⑤ 長さのけいさんをしよう(たし算・ひき算) 🕒🕒🕒🕒	しちょう かく室 2-1	☐プリント 1まい ☐教科書 P74. 75   	教科書 P74・75 AI「ものさし長老」	自分で丸つけ

☆チャレンジステージ☆ ~算数と国語のミッションが すべておわったら ちょうせんしてみよう~ (しちょうかく室)

- ◎ たんいカルタ
- ◎ つりぼりバトル!
- ◎ 3年生がつくった Youtube をみよう → 3年生の学しゅうにもチャレンジしてみよう