

2年生 社会休校中の課題パート2 解答

年表
探検隊

①

文明のおこりと日本の成り立ち

組 番 名前

(1) 年表穴うめクイズ 年表の にあてはまる語句を書こう。 (各5点×10)

● 政治・経済・社会 (上から)

日本	列島	三内	丸山遺跡	稲	作	弥生	時代
金印	を授かる	邪馬台	国				

● 文化 (上から)

打製	石器	貝	塚	仏	教
----	----	---	---	---	---

● 世界の動き

秦の	始皇帝
----	-----

(2) 年表○×クイズ 年表を見て、次の文が正しければ○を、まちがっていれば×を書こう。 (各5点×5)

- ア 紀元前後の倭には、100余りの国があった。 (○)
- イ 古墳が出現したのは、イエス・キリストが生まれる前である。 (×)
- ウ 倭の奴国の王は、中国の魏に使いを送って、光武帝から印綬を授かった。 (×)
- エ 倭王武が後漢に使いを送ったことが、『後漢書』に書かれている。 (×)
- オ 釈迦が生まれたころの日本は、縄文時代の終わりごろにあたる。 (○)

(3) 年表読み取りクイズ 年表から読み取れることを、次から3つ選ぼう。 (各5点×3)

- ア 大和政権は、国内統一を進めながら、朝鮮半島にも勢力をのぼそうとした。
- イ 卑弥呼が使いを送ったころの中国は、魏・呉・蜀の三国時代であった。
- ウ 氷河時代の日本列島には人は住んでいなかった。
- エ 縄文時代には抜歯の風習があったが、この風習は、古墳時代まで続いた。
- オ 高句麗の広開土王は、日本まで攻めてきた。
- カ 百済から伝えられた仏教の受け入れをめぐり、国内で豪族が争った。
- (ア)・(イ)・(カ)

(4) 年表記述問題 次の問いの答えを、文章で簡単に書こう。 (各5点×2)

- ① 埴輪は、どんなところに置かれたのかな？
- 〔 古墳のまわりや上に置かれた。 〕
- ② 貝塚はどうしてできたのかな？
- 〔 縄文時代の人々が食べた貝がらがつもってできた。 〕

(1) **年表穴うめクイズ** 年表の にあてはまる語句を書こう。 (各5点×10)

● 政治・経済・社会 (上から)

聖 徳 太子	中大兄 皇子	平 城 京	平 安 京
藤原 道 長	院 政	平 清盛	

● 文化 (上から)

東 大 寺	真 言 宗	平等院 鳳凰堂
-------	-------	---------

(2) **年表○×クイズ** 年表を見て、次の文が正しければ○を、まちがっていれば×を書こう。 (各5点×5)

- ア こんでんえいねん し ざいのほう 墾田永年私財法を定めたため、公地公民の制度はくずれていった。 (○)
- イ しょうとくたいし おののいもこ はけん 聖徳太子は、小野妹子を唐に派遣した。 (×)
- ウ ふじわらのすみとも 藤原純友の乱がおこったのは、平安京に都を移す前である。 (×)
- エ たいらのきよもり 平清盛は、隋と貿易を行った。 (×)
- オ こじき 「古事記」が完成したのは、奈良時代である。 (○)

(3) **年表読み取りクイズ** 年表から読み取れることを、次から3つ選ぼう。 (各5点×3)

- ア ほうりゅうじ 聖徳太子が建てた法隆寺は、63年後に全焼してしまった。
- イ 日本で初めて定められた年号は「大化」である。
- ウ 「日本書紀」はひらがなで書かれている。
- エ すがわらのみちざね 菅原道真の意見で一たん廃止された遣唐使は、のちに復活した。
- オ 平安京に都を移す前の10年間は、長岡京が都であった。
- カ がんじん 唐の僧鑑真が来日して、全国に国分寺を建てた。
- (ア) ・ (イ) ・ (オ)

(4) **年表記述問題** 次の問いの答えを、文章で簡単に書こう。 (各5点×2)

- ① 聖徳太子が中国に使いを送ったのは何のためかな？
- (中国の文化や制度を取り入れるため。)
- ② 墾田永年私財法は、どんな法律かな？
- (開墾した土地の永久私有を認める法律。)

(1) 年表穴うめクイズ 年表の にあてはまる語句を書こう。 (各5点×10)

● 政治・経済・社会 (上から)

守 護	執 権	政治	承 久	の乱	建 武	の新政
勘 合	貿易	応 仁	の乱			

● 文化 (上から)

運 慶	時 宗	金 閣	銀
-----	-----	-----	---

(2) 年表○×クイズ 年表を見て、次の文が正しければ○を、まちがっていれば×を書こう。

(各5点×5)

- ア 北条氏が独占した幕府の重要な役職は^{せつしょう}摂政である。 (×)
- イ ^{ごけにん}御家人の生活苦を救うため、幕府は^{えいにん とくせいれい}永仁の徳政令を出した。 (○)
- ウ 日本と明との間では、貿易は行われなかった。 (×)
- エ ^{かんあみ ぜあみ}観阿弥・世阿弥が能を完成させた。 (○)
- オ 足利義政が将軍のときに、南北朝は合一した。 (×)

(3) 年表読み取りクイズ 年表から読み取れることを、次から3つ選ぼう。 (各5点×3)

- ア チンギス・ハンは、フビライ・ハンの子孫である。
- イ 金剛力士像は、再建された東大寺南大門に収められている。
- ウ 元軍が日本に攻めて来たのは二度である。
- エ ^{いそんげ}李成桂が朝鮮(李氏)をおこした年と、南北朝が合一した年は同じである。
- オ 茶の湯や生け花は、戦国時代にはおとろえてしまった。
- カ 「平家物語」がつくられたのは室町時代である。

(イ) ・ (ウ) ・ (エ)

(4) 年表記述問題 次の問いの答えを、文章で簡単に書こう。 (各5点×2)

- ① ^{じょうきゅう}承久の乱後に京都に置かれた^{ろくは らたんだい}六波羅探題の仕事は何か? [朝廷の監視と西国武士の取りしまり。]
- ② ^{げこくじょう}下剋上とはどう [下の身分のものが上の身分のものにうちかつこと。] ということかな?

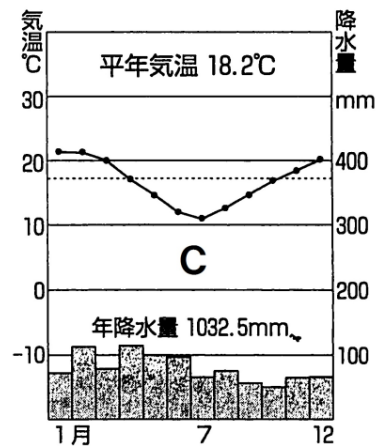
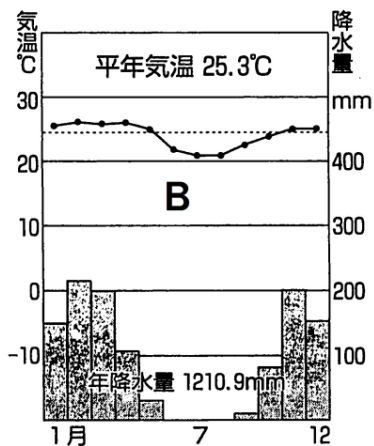
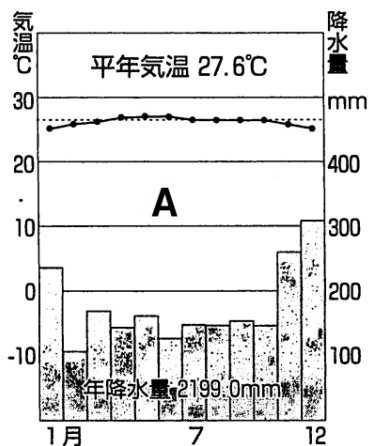
世界の気候帯(教科書P36~37、資料集P14~15)

ねらい：気候の特色について理解する。

(1)世界の気候帯について調べましょう。(教科書P36~37)

気候帯の名前	分布	特色
(熱)帯	赤道を中心に広がる	○一年を通して(気温が高い)気候。 四季の変化がない。 ・雨が1年中多く、うっそうとした森林がひろがる ⇒(熱帯雨林)気候 ・雨季と乾季があり、まばらな(樹木)とたけの長い草原が広がる ⇒(サバナ)気候
(乾燥)帯	北・南回帰線 [緯度(23.4)度] の付近	・1年を通して雨がとても少ない(砂漠)気候 ・少しだけ雨が降る季節がある(ステップ)気候 ⇒たけの短い(草原)が広がっている
(温)帯	日本の大部分も属している	○はっきりとした(季節)があるのが特徴。 ・年間の降水量が多く、1年中気温や降水量の変化が激しく、(季節)の変化がはっきりとしている⇒(温暖湿潤)気候 ・1年を通して少しずつ雨が降る ⇒(西岸海洋性)気候 ・冬に雨が多く(夏)に乾燥する ⇒(地中海性)気候
(冷)帯 (亜寒)帯	北半球の北部	○(冬)の寒さは厳しいが、(夏)には気温が上がるため(樹木)が育つ
(寒)帯	南極、北極の周辺や高山	○1年中、(寒い)。 ・短い夏の間、わずかに(草)や(こけ)が生える⇒(ツンドラ)気候 ・1年中、氷と雪におおわれている ⇒(氷雪)気候

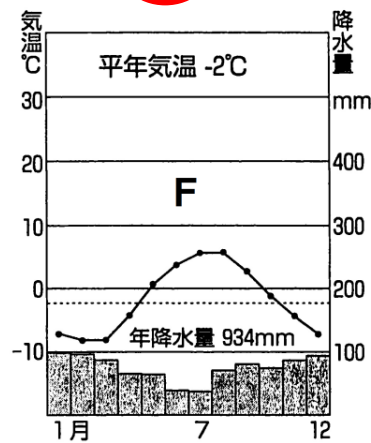
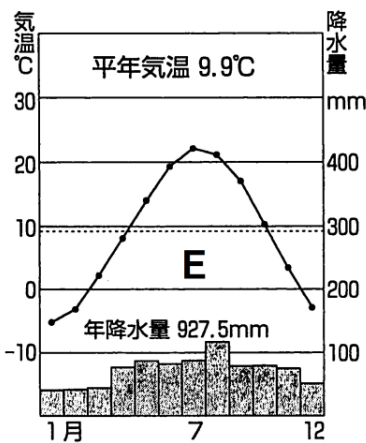
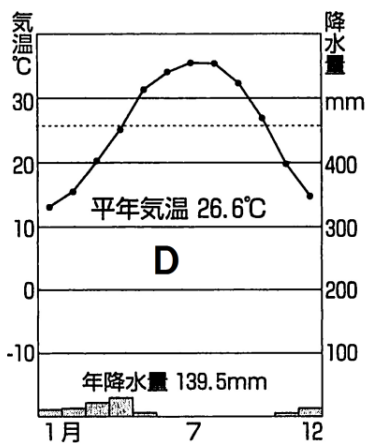
(2)下の A~F の雨温図をみて、当てはまる気候帯に○をつけましょう。



(熱・乾燥・温・冷・寒) 帯

(熱・乾燥・温・冷・寒) 帯

(熱・乾燥・温・冷・寒) 帯

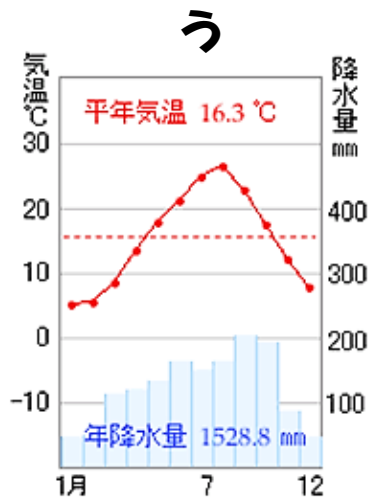
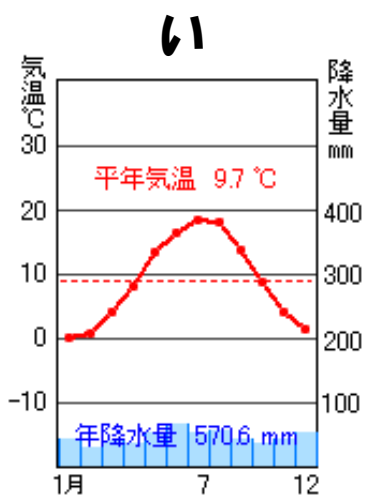
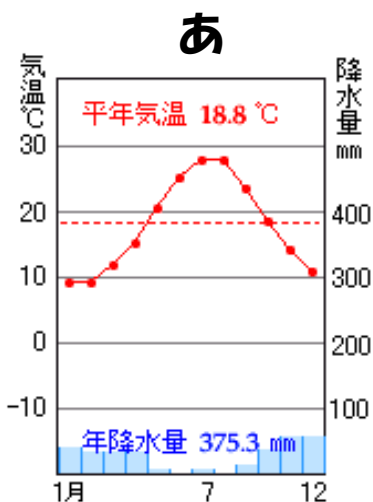


(熱・乾燥・温・冷・寒) 帯

(熱・乾燥・温・冷・寒) 帯

(熱・乾燥・温・冷・寒) 帯

(3)下の雨温図あ~うをみて、温帯の【温暖湿潤気候・西岸海洋性気候・地中海性気候】どの気候に当てはまるか、雨温図の下の()に記入しましょう。



(地中海性) 気候

(西岸海洋性) 気候

(温暖湿潤) 気候

第1章 世界の姿

①(1) A

(2) ア：南極大陸 エ：南アメリカ大陸

(3) 北極(南極)点から赤道

(4) エ

②Ⅱの地図は、緯度が高いほど(赤道からはなれるほど)実際の面積よりも大きく表れる

③(1) バチカン市国

(2) 6(カ国)

(3) 48倍

(4) かつてアフリカを植民地にしたヨーロッパの国々が、緯線や経線を使って引いた境界線を、今も国境線として使っているから。

(5) 大西洋

(6) ①オセアニア ②イギリス ③南十字星 ④植民地